

الدّراساتُ الاجتماعيّةُ والتّربيّةُ الوطنيّةُ

الصف الثالث

ورقة الاسئلة



أولى: كوكب الأرض

بيّتي الإماراتيّة

الدرس الأول: النظام البيئي في كوكب الأرض

أولاً: كوكب الأرض والمجموعة الشمسيّة

ضعي إشارة (✓) عند الإجابة الصحيحة وإشارة (x) عند الإجابة الخاطئة:

1. () تدور الأرض حول نفسها كل 14 ساعة وهي حركة يومية.
2. () ينتج عن دوران الأرض حول نفسها تعاقب الليل والنهار.
3. () ينتج عن دوران الأرض حول الشمس من الغرب إلى الشرق الفصول الأربعة.
4. () دوران الأرض حول الشمس هي حركة سنوية تستغرق 360 يوماً.
5. () تدور الشمس حول الأرض كل 24 ساعة.
6. () تستغرق الأرض مدة دورانها حول الشمس سنة ميلادية كاملةً.

إختاري الإجابة الصحيحة:

1. هو الحركة التي تقوم بها الأرض حول محورها وتدور بشكلين مختلفين مره حول نفسها ومرة حول الشمس
(دوران الشمس - دوران الأرض - دوران لقمر)
2. تدور الأرض حول نفسها كل:
(14 ساعة - 24 ساعة - 34 ساعة)
3. ينتج عن دوران الأرض حول نفسها
(الفصول الأربعة - تعاقب الليل والنهار - النهار)
4. ينتج عن دوران الأرض حول الشمس:
(الفصول الأربعة - تعاقب الليل والنهار - النهار)

* i *



5. تسمى الحركة التي تقوم بها الأرض حول محورها بـ:

(دوران الشمس – دوران القمر – دوران الأرض)

6. تستغرق الأرض مدة دوراتها حول الشمس:

(24 ساعة – 360 يوماً – 365 يوماً)

ماذا ينتج من دوران الأرض حول نفسها يومياً؟

.....

ماذا ينتج من دوران الأرض حول الشمس؟

.....



اِسْتَتِجْ مَظَاهِرَ الْحَيَاةِ عَلَى سَطْحِ الْأَرْضِ
مِن خِلالِ الصُّورَةِ الْآتِيَةِ:



لِمَاذَا يُسَمَّى كَوْكَبُ الْأَرْضِ بِالكَوْكَبِ الْأَرْتَقِيِّ؟



ضعي الإجابة الصحيحة ما بين القوسين في المكان المناسب في الرسمة التالية: (عطارد - الزهرة -

الأرض - المريخ - المشتري - زحل - أورانوس - نبتون - بلوتو)

أصغر الكواكب وأقربها للشمس
سكنني الإنسان وشكلي شبه كروي يحيط بي غلاف جوي يحتوي على الأكسجين
لا يمكن رؤيتي إلا قبل شروق الشمس أو غروبها سميت بنجم الصبح والمساء وترتفع بي الحرارة عن باقي الكواكب
أنا الكوكب الأحمر بسبب أكسيد الحديد الكثير في ترابي
أنا سابع الكواكب بعداً عن الشمس
أنا أكبر الكواكب وأضخمها حجماً
لدي 17 قمراً ويطلق علي بالكوكب الأزرق
أنا كويكب صغير في عائلة المجموعة الشمسية
أنا أجمل الكواكب وأتزين بطوق جميل

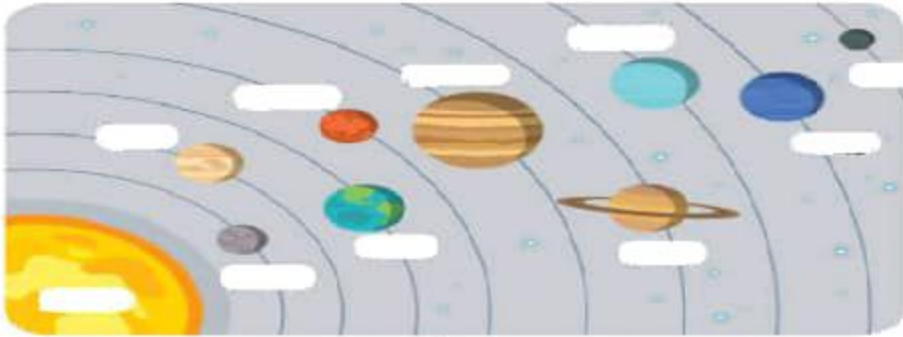
ضعي إشارة (✓) عند الإجابة الصحيحة وإشارة (x) عند الإجابة الخاطئة:

1. () كوكب الزهرة هو أصغر الكواكب ولقربها للشمس.



2. () الأرض هو الكوكب الذي يسكنه الإنسان وشكله كروي ويحيط به غلاف جوي يحتوي على الأكسجين.
3. () المريخ هو أكبر الكواكب وأضخمها حجماً.
4. () زحل أجمل الكواكب ويترزين بطوق جميل.
6. () نبتون لديه 16 قمراً ويطلق عليه بالكوكب الأزق.
7. () بلوتو هو كوكب صغير في عائلة المجموعة الشمسية.
8. () المشتري هو كوكب أحمر بسبب وجود أكسيد الحديد الكثير في ترابه.
9. () الزهرة هو ثاني كواكب المجموعة الشمسية من حيث قرابه للشمس، يبعد الزهرة.
10. () المريخ شبيه بكوكب الأرض من حيث الحجم والتركيب.

أكتب أسماء الكواكب في الصورة التالية



أنا الكوكب الأحمر في المجموعة الشمسية فهل عرفتني يا صديقي؟

كيف يدور كوكب الأرض؟



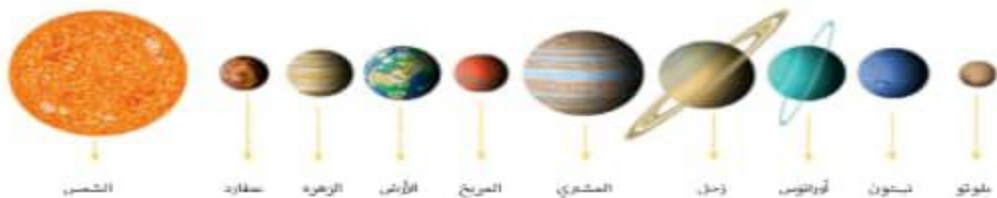
كيف يدور كوكب الزهرة؟



إختاري الإجابة الصحيحة:

1. يبعد الزهرة عن الشمس نحو مليون كيلومتر
(118 – 108 – 180)
2. يسمى مشروع دولة الإمارات لاكتشاف المريخ
(مسبار المريخ – مسبار الأمل)
3. بطول عام سيصل مسبار الأمل إلى الكوكب الأحمر
(2022 – 2021 – 2020)
4. من المخطط أن يصل مسبار الأمل إلى كوكب المريخ تزامناً مع ذكرى مرور عاماً على قيام اتحاد دولة الإمارات العربية المتحدة.
(30 عاماً – 45 عاماً – 50 عاماً)

اشترعن بالصورة التالية ثم أصل بخط بين الكواكب وترتيبها في المجموعة الشمسية:



الترتيب

الكواكب

السابع

المشتري

الخامس

عطارد

الأول

الأرض

الثالث

أورانوس

الكلمات المساعدة المريح - شبه كروي - الكائنات الحية - الأرض



- أنا كوكب
- شكلي
- وتعيش على سطحي
- دولتي دولة الإمارات العربية المتحدة لديها
- مشروع مستقبلي على كوكب

ثانياً: المياه أمنٌ وأمانٌ في بلادي

ضعي الكلمة الجديدة في المكان المناسب:-

الكلمات الجديدة - الأفلج - المياه العذبة - المياه المالحة - الجليد



إختاري الإجابة الصحيحة:


1. هي قناة محفورة في باطن الأرض أو على سطحها سواء كانت مغطاة أو مكشوفة لتجميع المياه الجوفية أو مياه العيون والينابيع الطبيعية أو المياه السطحية.
(المياه العذبة - الأفلج - الكتل الجليدية)

ضعي الإجابة الصحيحة في كل مربع فوق الصورة المناسبة:-

مِنْ أَمْثَرٍ مَقَادِرِ الْمِيَاهِ الْمَالِحَةِ



مِنَ الْمَشْكَالَاتِ الَّتِي تَعَانِي مِنْهَا دَوْلَةُ الْإِمَارَاتِ الْعَرَبِيَّةِ الْمُتَّحِدَةِ



بِمَاذَا تُوحِي هَذِهِ الصُّورَةُ لَكَ ؟



ضعي إشارة (✓) عند الإجابة الصحيحة وإشارة (X) عند الإجابة الخاطئة:

1. () من أهم المشكلات التي تعاني منها دولة الإمارات العربية المتحدة هي زيادة نسبة
الملوحة والتبخّر وانخفاض منسوب المياه الجوفية.

ما هي الإجراءات والحلول التي تعتمد عليها دولة الإمارات العربية المتحدة لتأمين المياه للسكان؟

الإجراءات وَالْحُلُومُ الَّتِي تَعْتَمِدُهَا دَوْلَةُ الإِمَارَاتِ العَرَبِيَّةِ المْتَحِدَةِ
لِتَأْمِينَ المِيَاهِ لِلسَّكَّانِ



ضعي إشارة (✓) عند الإجابة الصحيحة وإشارة (x) عند الإجابة الخاطئة:

1. () تقع دولة الإمارات العربية المتحدة في نطاق المناخ المعتدل.
2. () يتميز مناخ دولة الإمارات بالحرارة العالية وقلة الأمطار.
3. () تقوم دولة الإمارات العربية المتحدة على توفير حلول بديلة لعدم حدوث الجفاف في الدولة.
4. () من الحلول البديلة التي قامت بها دولة الإمارات للقضاء على الجفاف تجربة الاستمطار.
5. () تعتبر دولة الإمارات واحدة من البلدان الأكثر جفافاً في العالم.

6. () تتبوا دولة الإمارات العربية المتحدة مكانة رائدة عالمياً لالتزامها بتوفير الطول المنسبية للتحديات المتعلقة بالحفاظ على المية.

ما هي السدود الموجودة في دولة الإمارات العربية المتحدة؟

-
-

صلي للمصطلح بالمعنى المناسب:

<p>هي كل ما يحيط بالإنسان من موجودات من ماء، وهواء، وكائنات حية وغير حية، وهو المجال الذي يمارس فيه الإنسان حياته ونشاطاته المختلفة.</p>		<p>النشاط البشري</p>
<p>هو تفاعل المخلوقات الحية مع بعضها ومع العوامل غير الحية في بيئتها لاستمرار الحياة.</p>		<p>البيئة</p>
<p>هو الذي أحدثه الإنسان من تلوث في الملازل وإسراف في استخدام الماء وزيادة التصنيع غير الآمن مما أدى إلى تدهور</p>		<p>النظام البيئي</p>

ضعي إشارة (✓) عند الإجابة الصحيحة وإشارة (×) عند الإجابة الخاطئة:

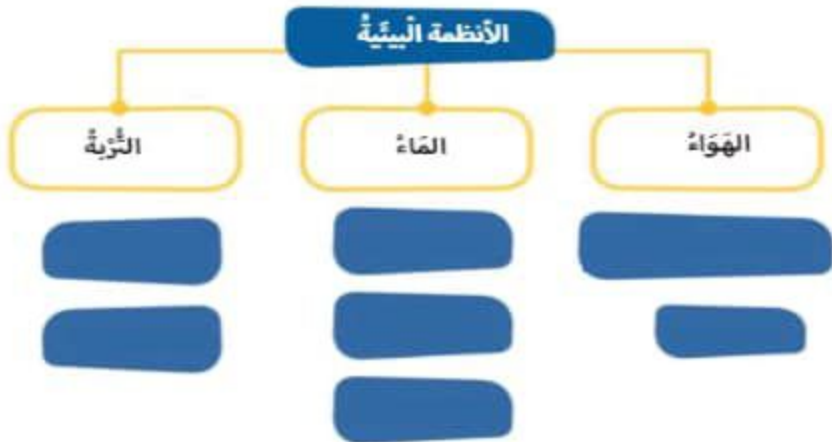
1. () تهتم دولة الإمارات العربية المتحدة بالمسطحات الخضراء.
2. () حماية البيئة هي مطلب أساسي لتحقيق النمو المستدام في دولة الإمارات العربية المتحدة.
3. () يحتاج للنبات إلى الضوء لكي ينمو ويزهر لكنه لا يجده إلا في الظل بسبب ارتفاع درجة الحرارة.



ضعي الإجابة الصحيحة في كل مربع فوق الصورة المناسبة:-



بيني أهمية الأنظمة البيئية في الصورة التالية:-



أَسْجَلْ أَسْفَلَ كُلَّ صَوْرَةٍ مَصْدَرِ التَّلَوُّثِ :

مُسَبِّبَاتُ التَّلَوُّثِ

التُّرْبَةُ



مَا هُوَ مَصْدَرُ التَّلَوُّثِ ؟

المَاءُ



مَا هُوَ مَصْدَرُ التَّلَوُّثِ ؟

الهَوَاءُ



مَا هُوَ مَصْدَرُ التَّلَوُّثِ ؟

