

المقارنة حتى العدد 1000



هيا يا صغيري قارن بين الأعداد . اكتب < أو > أو =

456 ○ 678

365 ○ 356

824 ○ 101

198 ○ 456

570 ○ 550

235 ○ 234

753 ○ 813

285 ○ 582

126 ○ 126

999 ○ 998

497 ○ 670

602 ○ 601

استخدم البطاقات الم رقمة لكتابة أعداد بثلاثة أرقام.

1

6

8

- أعداد أكبر من 800 . _____ ، _____

- أعداد أصغر من 600 . _____ ، _____

- أعداد أكبر من 150 و أصغر من 600 _____ ، _____

- أعداد أكبر من 600 . _____ ، _____



قراءة الأعداد إلى 1000 و كتابتها



اقرأ العدد . اكتب العدد

1- تسعة و خمسون -----

2- سبعمائة و ثمانية و ثلاثون -----

3- ثلاثمائة و خمسة -----

4- ثمانمائة و ثمانية و خمسون -----

اكتب العدد بالحروف . اقرأ العدد

1- 987 -----

2- 546 -----

3- 700 -----

4- 498 -----

حل المسائل

توجد ستمائة و ثلاثة و عشرون بطة بالبحيرة ، اكتب عدد البط الموجود في البحيرة .



----- بطة .

يوجد في حديقة الحيوانات 263 دجاجة . اكتب عدد الدجاجات الموجودة في الحديقة بالحروف

اكتب كل عدد بالصيغة الموسعة ثم اكتب العدد

<p>ثمانة واثنان وثلاثون _____ + _____ + _____ = _____</p>
<p>خمسائة وأربعة وخمسون _____ + _____ + _____ = _____</p>

اكتب العدد

<p>سبعمائة وخمسة وتسعون _____</p>	<p>مئة وخمسة وثلاثون _____</p>
<p>أربعمائة وواحد _____</p>	<p>ثلاثمائة وثمانية عشر _____</p>

اكتب العدد بالحروف


_____ 725
 _____ 247
 _____ 365
 _____ 884

اكتب الأعداد الناقصة ثم اكتب نمط العدد

<p>600 , 700 , _____ , 900 النمط هو _____</p>	<p>_____ , 520 , 525 , 530 , _____ النمط هو _____</p>
<p>324 , _____ , _____ , 354 , 364 النمط هو _____</p>	<p>763 , _____ , 563 , 463 , _____ النمط هو _____</p>

السؤال الأول: اكتب عدد المئات والعشرات والآحاد

----- مئات = ----- عشرات = ----- آحاد



500 = ---- آحاد

700 = ----- مئات

200 = ----- عشرات

984 = ----- مئات ----- عشرات ---- آحاد

السؤال الثاني: اكتب عدد المئات والعشرات والآحاد ثم


آحاد	عشرات	مئات



7



و 5



8

السؤال الثالث: اكتب العدد بالصيغة الموسعة ثم اكتب العدد

4 مئات و 3 عشرات و 5 آحاد = ----- + ----- + ----- = -----

السؤال الرابع: اقرأ العدد ثم اكتب

2 - ستمائة -----

1- مئتان و اثنان و اربعون -----

السؤال الخامس: اكتب العدد بالحروف ثم اقرأ العدد

السؤال السادس : اكتب الأعداد الناقصة ثم اكتب نمط العد

1- 440 – 450 – 460 - ----- - 480

النمط هو -----

2- 515 – 520 – 525 - ----- - 545

النمط هو -----

السؤال الثامن: قارن . استخدم خط الأعداد إذا لزم الأمر اكتب = - < - >

142 ○ 124

365 ○ 356

101 ○ 824

السؤال التاسع : حل المسائل

1- استخدم الحروف الأبجدية التالية للإجابة عن الاسئلة :

A B C D E F G H I J K L M N O P Q R S T U V W X Y Z

ما العدد الترتيبي للحرف D ؟

ما العدد الترتيبي للحرف A ؟

2- تكتب خلود عددا يتكون من ستة أحاد و أربعة عشرات و خمس مئات ، ما هذا العدد ؟

3- توجد سبعمائة و ستة و عشرين إوزة بالبحيرات ، اكتب عدد الأوز الموجود في

البحيرة ؟

الاسم:..... الصف الثاني (الوحدة 5)

اكتب عدد المئات والعشرات والآحاد

----- مئات = ----- عشرات = ----- آحاد



----- مئات = ----- عشرات = ----- آحاد



اكتب عدد المئات والعشرات والآحاد

985 = ----- مئات = ----- عشرات = ----- آحاد

803 = ----- مئات = ----- عشرات = ----- آحاد

اكتب عدد المئات والعشرات والآحاد

----- آحاد = 600	----- عشرات = 500
----- عشرات = 700	----- مئات = 300


اكتب عدد المئات والعشرات والآحاد ثم اكتب العدد

مئات	عشرات	آحاد

3 و 1



9 و



6

اكتب العدد بالصيغة الموسعة

654 = ----- + ----- + -----

741 = ----- + ----- + -----

المئة ... عشرة عشرات