

الاختبار الأول في مادة العلوم للصف الأول الأساسي من الفصل الدراسي الثالث

25

8


السؤال الأول : ضعني إشارة ( ✓ ) أمام العبارة الصحيحة وإشارة ( x )  
أمام العبارة الخاطئة فيما يلي :-

- ❖ نستطيع أن نغير شكل الأجسام أو حجمها أو لونها أو ملمسها . ( )
- ❖ الأجسام التي تطفو تبقى على سطح الماء . ( )
- ❖ الكرسي والحقيبة والقلم والكتاب أجسام سائلة ( )
- ❖ حالات المادة ثلاث صلبة وسائلة وغازية . ( )
- ❖ الغرفة مملوءة بالهواء ( )
- ❖ السائل هو كل مادة تسيل ( )
- ❖ عندما تغوص الأجسام تسقط إلى أسفل . ( )
- ❖ نغير العصير السائل إلى مثلجات صلبة بوضعه في الثلاجة ( )

السؤال الثاني : حوط الأجسام التي تطفو . وضعني علامة ( x )  
على الأجسام التي تغوص :-



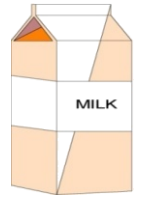

السؤال الثالث: صلي الصورة بالحالة المناسبة :-



سائل

صلب

غاز



السؤال الرابع : صلي الكلمة بالصورة المناسبة :-



سائل رقيق

سائل كثيف

مادة صلبة